



QUADERN ESTIU



MEDI 5È

ALUMNE/A:
CURS: 5è



.LA PREHISTÒRIA: ELS PRIMERS HUMANS

1. Escriu un títol que expliqui les activitats que fan aquests humans de la prehistòria i identifica a quina època prehistòrica correspon cada una:



A. _____

B. _____

C. _____

D. _____

2. Completa:

Els primers humans eren, és a dir s'alimentaven dels animals que caçaven i dels que recollien. Vivien en i eren, és a dir, no vivien en un lloc fix.

Els humans del van desenvolupar l'agricultura i la

Van passar de ser nòmades a Vivien en petits grups o, i ja formaven

3. Explica les diferències fonamentals entre el paleolític i el neolític.

.....

.....

.....

.....



4. Explica com són i quina funció tenien aquestes construccions:

Menhir: _____

Dolmen: _____

Ara dibuixa un menhir i un dolmen:

MENHIR	DOLMEN

Al final de quina època es van començar a construir aquests monuments?

-

5. Escribe cert o fals al final de cada frase:

L'edat dels metalls va començar quan l'home es va fer sedentari.....

La metal·lúrgia és el treball amb els metalls fosos.....

El primer metall que es va utilitzar va ser el ferro.....

Durant l'edat dels metalls van aparèixer les primeres ciutats.....

.Ara, corregeix les que siguin falses:

.....
.....

6. Anomena tres invents que es van produir en aquesta època:

.....

.Anomena dues noves professions que van aparèixer en aquest període:

.....

7. Observa atentament aquest dibuix i completa la fitxa següent:



Època històrica: _____


Activitats econòmiques: _____

-
-

Societat: _____

-
-

8. Escribe la paraula que explica les activitats que fan aquests humans.



- - - - -

- Quines d'aquestes escenes relaciones amb el neolític?

-



L'EDAT ANTIGA: LES GRANS CIVILITZACIONS

1. Completa:

L'edat antiga és el període de la història que comença amb; i s'acaba amb la caiguda de l'....., l'any/segle.....

2. Digues el nom de cada civilització.

- Van conquerir la Mediterrània gràcies a un exèrcit molt potent i van imposar-hi les seves formes de vida.
- Vivien a les zones de la península Ibèrica pròximes a la costa mediterrània abans de l'arribada dels romans.
- Eren un poble de mercaders que van expandir-se i van fundar colònies com Empúries.

6 Contesta aquestes preguntes:

- Quin poble mediterrani de l'edat antiga va fundar una colònia anomenada Empòrion? _____ On es trobava? _____
 - Què vol dir la paraula Empòrion? _____

7. Respon:

On vivien els ibers abans de l'arribada dels grecs?

.....

Com s'organitzaven els ibers?

.....

Després de perfeccionar el ferro, de quins materials es van convertir en experts?

.....



8. Selecciona la opció correcta.

- C** **F** L'expansió de la civilització i la cultura de Roma arreu dels pobles conquerits s'anomena hispanització.
- C** **F** En el procés de romanització, els pobles adoptaven el llatí, el dret romà i la religió politeista.
- C** **F** La llengua dels romans era el llatí.
- C** **F** L'evolució del llatí ha donat lloc a un conjunt de llengües que anomenem llengües romàniques.
- C** **F** El dret romà ha inspirat algunes de les lleis actuals de molts estats.
- C** **F** La religió cristiana va ser declarada religió oficial de l'imperi Romà.
- C** **F** El català i el castellà són llengües romàniques, que provenen del llatí.

9. Identifica a quina edat històrica correspon cada una de les afirmacions següents:

edat moderna

prehistòria

edat antiga

edat contemporània

edat mitjana

- A. És la primera edat històrica i marca l'inici de la humanitat. _____
- B. És una època de revolucions i avenços tecnològics. _____
- C. És una època de grans civilitzacions, com l'egípcia... _____
- D. És l'època dels descobriments i dels grans imperis europeus. _____
- E. És l'època del domini dels senyors feudals sobre els camperols. _____



1. Explica les diferències entre aquestes parelles d'astres:

estrella / planeta: _____

planeta / satèl·lit: _____

asteroide / meteorit: _____

cometa / estel fugisser: _____

2. Llegeix les frases següents i corregeix-les:

A. La Via Làctia és l'única galàxia de l'Univers.

B. El sistema solar és una galàxia.

C. Els planetes del sistema solar són la Lluna, la Terra i el Sol.

D. La Lluna és l'estrella més propera a la Terra.

E La hidrosfera és el conjunt de tots els rius de la Terra.

4. Completa:

El moviment de de la Terra és el gir que el planeta sobre sí mateix.

Tarda..... a fer una volta completa.

El moviment de de la Terra és el recorregut que fa el planeta al voltant del

..... Tarda a fer una volta completa. Aquest moviment provoca la successió

de les

Els moviment aparent del Sol ens serveix per establir els quatre

..... que ens permeten orientar-nos.



ELS ÉSSERS VIUS

1. Marca amb una X la frase correcta:

A. El cicle vital d'un ésser viu...

- ...comença amb la reproducció i s'acaba amb la mort.
- ...s'inicia amb el naixement i s'acaba amb la mort.

B. Una cèl·lula és formada...

- ...pel nucli, el citoplasma i la membrana.
- ...pels cromosomes i la clorofil·la.

C. Els organismes...

- ...són formats per moltes cèl·lules.
- ...unicel·lulars són formats per una sola cèl·lula i els pluricel·lulars són formats per moltes cèl·lules.

D. Els dos grans medis del nostre planeta...

- ...són el medi natural i el medi social.
- ...són el medi terrestre i el medi aquàtic.

2. Escriu els cinc grans grups en què es classifiquen els éssers vius i posa'n exemples:

- _____
- _____
- _____
- _____
- _____



3. Indica quin tipus d'associació entre individus representa cada foto:



A

.....



B

.....



C

.....



D

.....



E

.....



F

.....

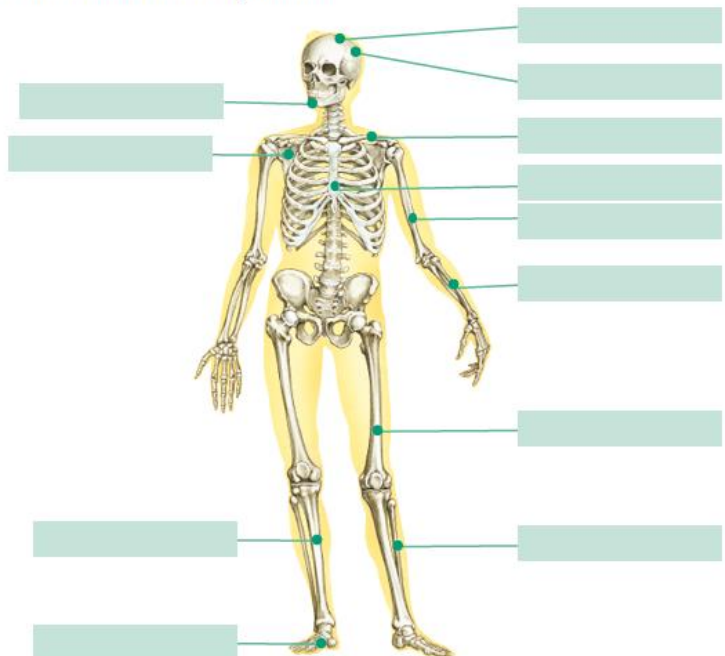
:

4. Posa el nom del ossos:



Arrossega els noms d'aquests ossos fins al lloc corresponent:

- parietal
- peroné
- clavícula
- metatarsians
- húmer
- estèrnum
- occipital
- fèmur
- radi
- maxil·lar inferior
- tibia
- omòplat



L'ESQUELET (II)



5. Respon a aquestes preguntes:

• Quines etapes té el procés de digestió? _____

• On comença el procés de digestió? _____

• Què necessita el bol alimentari per a transformar-se en el quim? _____

• Amb quins tres líquids es barreja el quim durant la digestió intestinal? _____

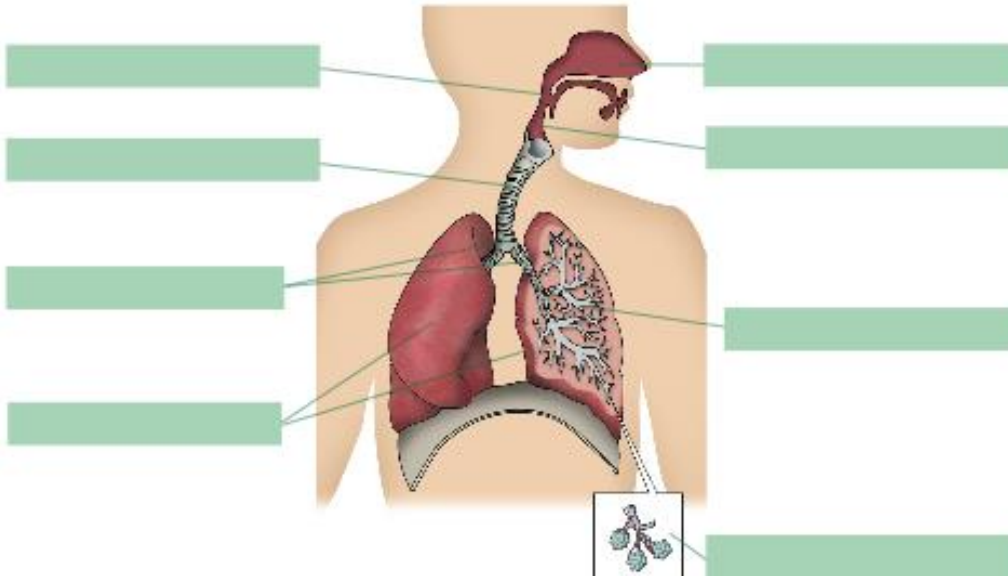
6. Subratlla les frases que siguin certes i corregeix les que siguin incorrectes:

- La boca és l'entrada del tub digestiu i és on es produeix la saliva.
- L'esòfag és el conducte que comunica l'estómac amb l'intestí prim.
- El pàncrees produeix la bilis.
- Les glàndules digestives són a l'interior del tub digestiu i produeixen diverses substàncies que intervenen en la digestió.



- El procés de la digestió es produeix en diferents etapes: digestió bucal, digestió estomacal i digestió intestinal.

3. Completa l'esquema de l'aparell respiratori.



4. Respon:

- Quins òrgans formen part de l'aparell urinari?

- Què elaboren els ronyons?

- Quin és el conducte pel qual l'orina surt de la bufeta urinària?
